

1. Perhatikan pasar faktor produksi berikut ini !

1. Penjualnya adalah produsen.
2. Lebih diutamakan penawaran keahlian.
3. Semakin profesional biasanya harganya semakin tinggi.
4. Dibeli oleh perusahaan sebagai bahan baku.
5. Merupakan uang tunai yang sangat dibutuhkan produsen.

Dari pernyataan di atas, yang merupakan pasar faktor produksi tenaga kerja adalah

.....

- | | |
|------------|------------|
| A. 1 dan 2 | D. 3 dan 4 |
| B. 1 dan 3 | E. 4 dan 5 |
| C. 2 dan 3 | |

Jawaban : C

Penyelesaian :

Pasar Faktor Tenaga Kerja mempunyai beberapa ciri antara lain :

1. Penjualan adalah Rumah Tangga Konsumsi (RTK) pembelinya adalah Rumah Tangga Produksi (RTP).
2. Pemilik faktor produksi tenaga kerja adalah Rumah Tangga Konsumsi (RTK).
3. Penawaran tenaga kerja berasal dari Rumah Tangga Konsumsi (RTK).
4. Permintaan tenaga kerja berasal dari Rumah Tangga Produksi (RTP).
5. Tinggi rendah upah bergantung pada permintaan dan penawaran.
6. Keahlian tenaga kerja sangat menentukan.

2. Perhatikan tabel berikut !

A	B	C
1. hanya ada satu produsen	1. produk homogen	1. iklan penting untuk meyakinkan konsumen
2. produk sejenis tetapi berbeda corak	2. kemampuan perusahaan hampir sama	2. pasar sulit dimasuki produsen baru
3. tak ada campur tangan pemerintah	3. tak ada standar produk	3. hanya ada beberapa produsen

Ciri-ciri pasar persaingan sempurna adalah

- | | |
|-------------------|-------------------|
| A. A1, B1, dan C1 | D. A3, B1, dan C1 |
| B. A2, B2, dan C1 | E. A3, B3, dan C3 |
| C. A2, B2, dan C3 | |

Jawaban : D

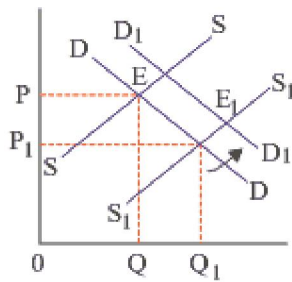
Penyelesaian :

Pasar persaingan sempurna adalah suatu bentuk atau struktur pasar dimana terdapat banyak pembeli dan penjual yang memperjualbelikan barang bersifat homogen (sejenis).

Ciri-ciri pasar persaingan sempurna adalah :

- a. penjual dan pembeli bebas keluar masuk pasar
- b. tidak ada campur tangan dari pemerintah
- c. barang yang diperjualbelikan bersifat homogen
- d. penjual dan pembeli benar-benar telah mengetahui seluk beluk pasar.
- e. jumlah penjual dan pembeli banyak
- f. iklan sangat berperan dalam meyakinkan pembeli.

3. Perhatikan kurva permintaan dan penawaran di bawah ini!

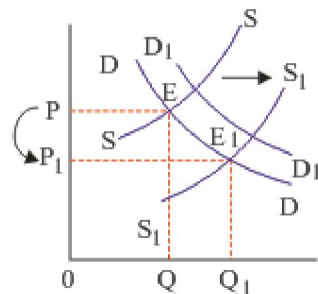


Kurva di samping menunjukkan perpotongan kurva DD dan SS menghasilkan harga keseimbangan awal pada titik E, akibat pergeseran kurva permintaan dan penawaran, maka harga keseimbangan menjadi E_1 sebagai perpotongan dari permintaan baru D_1D_1 dan penawaran baru S_1S_1 , akan tetapi terjadi penurunan harga keseimbangan, hal tersebut terjadi sebagai akibat dari

- A. penurunan penawaran lebih besar jika dibandingkan dengan permintaan
- B. peningkatan penawaran sama dengan peningkatan permintaan
- C. peningkatan penawaran lebih besar jika dibandingkan dengan peningkatan permintaan
- D. penurunan penawaran lebih kecil jika dibandingkan dengan permintaan
- E. peningkatan penawaran tidak ada hubungannya dengan peningkatan permintaan

Jawaban : C

Penyelesaian :



Pada gambar kurva tersebut, terlihat kurva permintaan maupun penawaran sama-sama bergeser ke kanan yang berarti terjadi peningkatan baik jumlah permintaan maupun jumlah penawaran. Terjadinya penurunan harga keseimbangan dari P ke P_1 , karena peningkatan jumlah permintaan lebih kecil dari peningkatan jumlah penawaran. Ini terlihat dari pergeseran kurva permintaan ke kanan lebih kecil dari pergeseran kurva penawaran ke kanan.

4. Di bawah ini merupakan ciri-ciri sistem ekonomi :

- 1. hanya produksi yang menguasai hajat hidup rakyat dilaksanakan oleh pemerintah
- 2. kebijakan perekonomian sepenuhnya dikuasai pemerintah
- 3. kebijakan ekonomi untuk mengendalikan keadaan ekonomi
- 4. masyarakat terbagi dua golongan yaitu pengusaha dan tenaga kerja
- 5. pembagian pekerjaan ditentukan pemerintah

Yang merupakan ciri sistem ekonomi campuran adalah

- A. 1 dan 2
- B. 1 dan 3
- C. 2 dan 3
- D. 3 dan 4
- E. 4 dan 5

Jawaban : B

Penyelesaian :

Ciri-ciri sistem ekonomi campuran antara lain :

1. pemerintah berperan sebagai pembuat kebijakan ekonomi sekaligus stabilitas perekonomian.
2. sektor ekonomi yang menguasai hajat hidup orang banyak dikuasai oleh pemerintah.
3. individu bebas berusaha tanpa merugikan kepentingan orang lain.
4. terdapatnya peranan swasta dalam perekonomian.

5. Perhatikan pernyataan berikut ini :

- I. barang apa yang harus dikonsumsi
- II. bagaimana cara mengonsumsi
- III. siapa yang memproduksi
- IV. barang apa yang diproduksi
- V. bagaimana cara memproduksi
- VI. untuk siapa barang diproduksi

Berdasarkan pernyataan-pernyataan di atas, yang merupakan masalah pokok perekonomian adalah

- | | |
|-------------------|-------------------|
| A. I, II, dan III | D. III, IV, dan V |
| B. I, III, dan V | E. IV, V, dan VI |
| C. II, IV, dan V | |

Jawaban : E

Penyelesaian :

Masalah pokok perekonomian modern antara lain :

- a. barang apa yang akan diproduksi
- b. bagaimana cara memproduksi
- c. untuk siapa barang diproduksi

6. Berikut ini kebijakan moneter dan kebijakan fiskal :

1. menaikkan tingkat suku bunga
2. mengurangi pengeluaran pemerintah
3. menjualbelikan surat-surat berharga
4. menaikkan pajak penghasilan
5. menaikkan/menurunkan cash ratio

Yang termasuk kebijakan moneter adalah

- | | |
|----------------|----------------|
| A. 1, 2, dan 5 | D. 2, 4, dan 5 |
| B. 1, 3, dan 5 | E. 3, 4, dan 5 |
| C. 2, 3, dan 5 | |

Jawaban : B

Penyelesaian :

Kebijaksanaan moneter yaitu :

- a. Kebijakan politik diskonto artinya kebijaksanaan untuk menaikkan atau menurunkan tingkat bunga.
- b. Operasi pasar terbuka (Open Market Operation) artinya penurunan jumlah uang yang beredar, pemerintah menjual obligasi atau SBI di pasar bebas.
- c. Kebijakan cadangan kas (cash ratio) artinya menaikkan atau menurunkan persentase cadangan kas.
- d. Kebijakan kredit selektif artinya mengurangi jumlah uang yang beredar di masyarakat dengan cara menentukan syarat-syarat kredit yang ketat.

7. Peranan bank umum dan bank sentral adalah :

1. mengelola cadangan devisa
2. pembiayaan bank yang kesulitan likuiditas jangka pendek

3. mengatur dan mengawasi perbankan
4. menghubungkan kepentingan kreditur dan debitur
5. fasilitator lalu lintas pembayaran

Yang merupakan peranan bank sentral adalah

- A. 1, 2, dan 3
 B. 1, 3, dan 4
 C. 2, 3, dan 4
 D. 2, 3, dan 5
 E. 3, 4, dan 5

Jawaban : A

Penyelesaian :

Peranan Bank Sentral antara lain :

- a. Mengatur dan mengawasi kegiatan perbankan.
- b. Mengelola cadangan devisa.
- c. Memberi pinjaman bagi bank umum yang kesulitan likuiditas jangka pendek.
- d. Menetapkan kebijakan moneter.
- e. Mengatur lalu lintas pembayaran.

8. Faktor-faktor yang memengaruhi permintaan dan penawaran :

No.	A	B
1.	Pendapatan naik	Tingkat suku bunga turun
2.	Fasilitas kredit murah diperoleh	Harga barang di pasar turun
3.	Semakin banyak variasi kekayaan di masyarakat	Sistem pembayaran secara tunai

Berdasarkan matriks tersebut, faktor yang dapat menaikkan permintaan uang adalah

- A. A1 dan B1
 B. A1 dan B2
 C. A2 dan B2
 D. A3 dan B1
 E. A3 dan B3

Jawaban : D

Penyelesaian :

Faktor yang dapat mempengaruhi kenaikan permintaan terhadap uang antar lain:

- a. suku bunga yang turun
- b. semakin banyak variasi kekayaan di masyarakat

9. Diketahui fungsi konsumsi nasional $C = 50 \text{ triliun} + 0,8 Y$. Jika pendapatan nasional Rp 900 triliun, besarnya tabungan masyarakat adalah

- A. Rp 850 triliun
 B. Rp 770 triliun
 C. Rp 230 triliun
 D. Rp 130 triliun
 E. Rp 13 triliun

Jawaban : D

Penyelesaian :

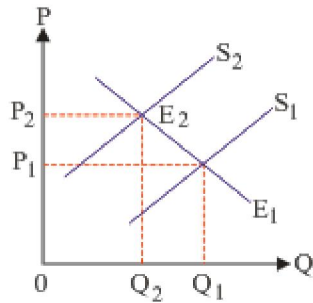
$$C = 50 \text{ triliun} + 0,8 Y$$

$$S = -50 \text{ triliun} + 0,2 Y$$

$$\begin{aligned} S &= -50 \text{ triliun} + 0,2 (900) \\ &= -50 \text{ triliun} + 180 \text{ triliun} \\ &= 130 \text{ triliun} \end{aligned}$$

10. Indonesia mengalami berbagai masalah ekonomi, sosial, pertahanan, dan keamanan yang mendera sampai dengan tahun 2007 sehingga menyebabkan inflasi. Penyebab utamanya

adalah turunnya nilai rupiah terhadap dolar Amerika.
 Grafik inflasi tersebut dapat digambarkan sebagai berikut :



Gambar tersebut adalah grafik inflasi yang disebabkan oleh

- A. kenaikan biaya produksi
- B. *cost push inflation*
- C. kelebihan produk di pasaran
- D. *demand pull inflation*
- E. pengaruh inflasi luar negeri

Jawaban : B

Penyelesaian :

Jika nilai rupiah turun terhadap dolar maka harga naik. Apabila kenaikan terjadi pada bahan baku maka biaya produksi naik. Kenaikan pada biaya produksi akan mengakibatkan harga barang naik (inflasi). Keadaan seperti ini yang disebut dengan Cost Push Inflation.

Dari gambar kurva penawaran tersebut bergeser ke kiri/ke atas artinya penawaran berkurang karena penjual mengkhawatirkan permintaan konsumen berkurang akibat dari kenaikan harga tersebut.

11.

- Upah	4.900	- Laba	3.100	- Sewa	100
- Bunga	200	- Konsumsi	2.000	- Investasi	900
- Belanja pemerintah	1.200	- Ekspor	2.000	- Impor	1.500
- Pertanian	4.800	- Pertambangan	5.000	- Industri	3.000
- Jasa	500				

Berdasarkan data di atas, maka besar pendapatan nasional menurut pendekatan pendapatan adalah

- A. Rp 12.900 miliar
- B. Rp 12.100 miliar
- C. Rp 11.600 miliar
- D. Rp 8.300 miliar
- E. Rp 5.500 miliar

Jawaban : D

Penyelesaian :

Diketahui : Pendapatan sewa (R) = 100
 Penerimaan upah (W) = 4900
 Penerimaan bunga modal (I) = 200
 Penerimaan laba usaha (P) = 3100

$$\begin{aligned}
 Y &= R + W + I + P \\
 &= 100 + 4900 + 200 + 3100 \\
 &= 8300
 \end{aligned}$$

12. Berikut ini surat-surat berharga :

- 1. saham
- 2. SBI
- 3. commercial paper
- 4. obligasi

Surat berharga di atas yang diperdagangkan di pasar modal adalah

- A. 1 dan 2
 B. 1 dan 3
 C. 1 dan 4
 D. 2 dan 3
 E. 2 dan 4

Jawaban : C

Penyelesaian :

1. Surat berharga yang diperdagangkan pasar modal :
 - a. Saham
 - b. Obligasi Konversi
 - c. Waran
2. Surat berharga yang diperdagangkan pasar uang adalah :
 - a. SBI (Sertifikat Bank Indonesia)
 - b. Sertifikat Deposito
 - c. Commercial Paper
 - d. Prolongasi
 - e. Belening

13. Seorang pelajar dari Amerika berwisata ke Bali dengan bekal uang sejumlah US \$ 20.000,-. Kurs beli saat itu Rp 8.900,00 dan jual Rp 9.040,00. Berarti dia akan memperoleh jumlah nilai rupiah sebesar
- A. Rp 178.000.000,00
 B. Rp 178.800.000,00
 C. Rp 180.800.000,00
 D. Rp 187.200.000,00
 E. Rp 188.200.000,00

Jawaban : A

Penyelesaian :

Jumlah uang yang diterima = US \$ 20.000 x Rp 8.900,00 = Rp 178.000.000,00.

14. Diketahui: Pak Burhan memiliki rumah dengan Luas tanah 100 m² dengan harga @ Rp 160.000,00 Luas rumah 55 m² dengan harga @ Rp 505.000,00 NJOP tidak kena pajak Rp 8.000.000,00
 Dari kondisi tersebut, maka Pak Burhan harus membayar Pajak Bumi Bangunan sebesar.....
- A. Rp 35.575,00
 B. Rp 43.775,00
 C. Rp 35.775,00
 D. Rp 35.757,00
 E. Rp 35.975,00

Jawaban : C

Penyelesaian :

$$\begin{aligned} \text{Nilai jual tanah} &= 100 \times 160.000 = \text{Rp } 16.000.000,00 \\ \text{Nilai jual bangunan} &= 55 \times 505.000 = \text{Rp } 27.775.000,00 + \\ \text{Nilai Jual Tanah dan Bangunan (NJOP)} &= \text{Rp } 43.775.000,00 \\ \text{NJOP tidak kena pajak} &= \text{Rp } 8.000.000,00 - \\ \text{NJOP} &= \text{Rp } 35.775.000,00 \\ \text{PBB yang harus dibayar} &= 0,5\% \times (\text{NJOP} \times 20\%) \\ &= 0,5\% \times (35.775.000 \times 20\%) \\ &= \text{Rp } 35.775,00 \end{aligned}$$

15. Berikut ini disajikan sumber pendapatan pemerintah pusat dan daerah :
1. pajak penghasilan
 2. bagian laba BUMN
 3. pajak dan retribusi daerah
 4. bea masuk dan pajak ekspor
 5. bagian daerah dari bagi hasil
- Dari sumber pendapatan di atas, yang termasuk pendapatan daerah adalah

- A. 1 dan 2
 B. 2 dan 3
 C. 3 dan 4
 D. 3 dan 5
 E. 4 dan 5

Jawaban : D

Penyelesaian :

Sumber penerimaan pemerintah daerah yaitu :

a. Pendapatan asli daerah : pajak reklame, pajak kendaraan bermotor, pajak tontonan dan

retribusi daerah.

b. Dana perimbangan : dana alokasi umum, dana alokasi khusus, dan dan bagi hasil.

Sumber penerimaan pemerintah pusat yaitu :

a. Laba BUMN

b. Pajak dalam negeri : PPh, PPN, PBB, PPn-BM

c. Pajak ekspor dan impor

d. Bea Perolehan Hak atas Tanah dan Bangunan (BPHTB)

16. Di bawah ini bagian data negara "X" tahun 2006.

- Penerimaan rutin = Rp 10.200 miliar

- Penerimaan pembangunan = Rp 10.200 miliar

- Pengeluaran rutin = Rp 30.600 miliar

- Pengeluaran pembangunan = Rp 20.400 miliar

Dari data di atas APBN Negara "X" posisinya adalah

A. surplus = Rp 30.600 miliar

D. defisit = Rp 10.200 miliar

B. defisit = Rp 30.600 miliar

E. defisit = Rp 20.400 miliar

C. surplus = Rp 10.200 miliar

Jawaban : E

Penyelesaian :

Jika penerimaan rutin lebih besar daripada pengeluaran rutin maka *APBN surplus*.

Sebaliknya jika penerimaan rutin lebih besar daripada pengeluaran rutin maka *APBN defisit*.

Penerimaan rutin Rp 10.200 miliar

Pengeluaran rutin Rp 30.600 miliar -

Sisa Rp 20.400 miliar

Karena penerimaan rutin lebih kecil daripada pengeluaran rutin berarti APBN tersebut defisit Rp 20.400,00.

17. Globalisasi dalam perdagangan menimbulkan adanya persaingan antarpedagang di masyarakat, banyak pengusaha atau pedagang kecil mengalami kelesuan karena kalah bersaing, dan ada yang sampai gulung tikar, dan sebagai akibatnya timbul pengangguran. Dampak secara langsung dari pengangguran atau PHK yang dilakukan oleh perusahaan adalah

A. perekonomian semakin lesu

B. industri mengalami penurunan

C. pendapatan masyarakat menurun

D. timbulnya kriminalitas di masyarakat

E. perhatian pemerintah semakin berkurang

Jawaban : A

Penyelesaian :

Dampak dari PHK (Pemutusan Hubungan Kerja) oleh perusahaan antara lain :

1. Secara langsung yaitu :

- a. penurunan pendapatan masyarakat
 - b. penurunan daya beli masyarakat
2. Secara tidak langsung yaitu :
- a. industri mengalami penurunan/kemunduran
 - b. pertumbuhan ekonomi akan terhambat
 - c. pendapatan nasional mengalami penurunan
 - d. perekonomian menjadi lesu

18. Berikut ini data Produk Domestik Bruto riil Indonesia selama tahun 2004 - 2006.

Tahun	PDB Riil (miliar rupiah)
2003	1.326.000
2004	1.365.780
2005	1.420.408
2006	1.477.224

Berdasarkan data di atas, tingkat pertumbuhan ekonomi tahun 2006 adalah

- A. 3,04%
- B. 3,40%
- C. 3,47%
- D. 3,84%
- E. 4,00%

Jawaban : E

Penyelesaian :

$$\begin{aligned}
 TPE_{2006} &= \frac{PDB_{2006} - PDB_{2005}}{PDB_{2005}} \\
 &= \frac{1.477.224.000 - 1.420.408.000}{1.420.408.000} \times 100 \\
 &= 3,99\% \rightarrow 4,00\%
 \end{aligned}$$

19. Di Indonesia tersebar banyak Koperasi Unit Desa yang berperan besar dalam menyejahterakan masyarakat desa, khususnya petani. KUD di suatu daerah ada yang melakukan usaha penjualan kebutuhan pokok masyarakat (petani), menerima tabungan dan memberi pinjaman uang pada petani dan juga mengadakan budidaya tambak ikan. Ditinjau dari jenis usahanya, koperasi tersebut adalah

- A. koperasi konsumsi
- B. koperasi primer
- C. koperasi produksi
- D. koperasi sekunder
- E. koperasi serba usaha

Jawaban : E

Penyelesaian :

Jenis-jenis koperasi berdasarkan usahanya yaitu :

1. Produksi adalah koperasi yang kegiatannya menampung hasil produksi para anggota dan menjualnya kembali dengan harga yang layak.
 2. Konsumsi adalah koperasi yang kegiatan utamanya ditujukan untuk menyediakan kebutuhan sehari-hari para anggotanya.
 3. Simpan Pinjam adalah koperasi yang kegiatan utamanya ditujukan untuk memberikan bantuan kepada para anggotanya berupa kredit dengan bunga rendah.
 4. Fungsional adalah koperasi yang didirikan sesuai pekerjaan para anggotanya.
 5. Serba usaha adalah koperasi yang menyediakan berbagai macam hasil usaha.
- KUD menyediakan berbagai macam hasil usaha maka termasuk dalam koperasi serba usaha.

E.

Tanggal	Keterangan	Ref	Debit	Kredit	Sisa
1-12-2007			Rp 2.500.000,00	Rp 500.000,00	Rp 2.500.000,00
1-12-2007			Rp 1.000.000,00	Rp 500.000,00	Rp 1.000.000,00
1-12-2007				Rp 100.000,00	Rp 900.000,00
10-12-2007			Rp 500.000,00		Rp 1.400.000,00

Jawaban : C

Penyelesaian :

Posting buku besarnya adalah :

Tanggal	Keterangan	Ref	Debit	Kredit	Sisa
1-12-2007			Rp 2.500.000,00		Rp 2.500.000,00
1-12-2007				Rp 1.500.000,00	Rp 1.000.000,00
1-12-2007				Rp 100.000,00	Rp 900.000,00
10-12-2007			Rp 500.000,00		Rp 1.400.000,00

23. Pada tanggal 14 Desember 2007 fotokopi "TERANG" memperoleh order fotokopi dan penjualan dari SMA Merdeka Jaya dengan perincian sebagai berikut :

Fotokopi Rp 175.000,00
 Penjualan Rp 10.000,00
 Rp 185.000,00

Diterima secara tunai Rp 85.000,00
 Kekurangan Rp 100.000,00

Jurnal dari transaksi di atas adalah

A.

Tanggal	Keterangan	Ref	Debit	Kredit
14-12-07	Kas		Rp 85.000,00	
	Piutang usaha		Rp 100.000,00	
	Pendapatan fotokopi			Rp 175.000,00
	Pendapatan penjualan			Rp 10.000,00

B.

C.

Tanggal	Keterangan	Ref	Debit	Kredit
14-12-07	Pendapatan fotokopi		Rp 100.000,00	
	Piutang usaha		Rp 85.000,00	
	Kas			Rp 175.000,00
	Pendapatan penjualan			Rp 10.000,00

D.

Tanggal	Keterangan	Ref	Debit	Kredit
14-12-07	Kas		Rp 175.000,00	
	Pendapatan fotokopi		Rp 10.000,00	
	Piutang usaha			Rp 100.000,00
	Pendapatan penjualan			Rp 85.000,00

E.

Tanggal	Keterangan	Ref	Debit	Kredit
14-12-07	Piutang usaha		Rp 85.000,00	
	Pendapatan penjualan		Rp 100.000,00	
				Rp 175.000,00

Jawaban : A

Penyelesaian :

Jurnal transaksinya adalah :

Tanggal	Keterangan	Ref	Debit	Kredit
14 - 12 - 07	Kas		Rp 85.000,00	
	Piutang usaha		Rp 100.000,00	
	Pendapatan fotokopi			Rp 175.000,00
	Pendapatan penjilidan			Rp 10.000,00

24. Salah satu fungsi jurnal adalah fungsi historis artinya

- A. mencatat semua transaksi untuk mencari laba rugi
- B. mencatat semua kegiatan perusahaan
- C. mencatat menurut urutan tanggal terjadinya transaksi
- D. sebagai jembatan untuk membuat neraca
- E. sebagai penyeimbang antara debit dan kredit

Jawaban : C

Penyelesaian :

Fungsi jurnal secara historis adalah mencatat menurut urutan tanggal terjadinya transaksi.

25. Tanggal 30 Juni 2007 diterima piutang dari Fatah Rp 500.000,00 dan bunga Rp 25.000,00. Transaksi tersebut mengakibatkan perubahan dalam persamaan akuntansi adalah

- A. Kas (-) Rp 475.000,00, Utang (-) Rp 500.000,00, Modal (-) Rp 25.000,00
- B. Kas (+) Rp 500.000,00, Utang (-) Rp 475.000,00, Modal (-) Rp 25.000,00
- C. Kas (+) Rp 500.000,00, Piutang (-) Rp 500.000,00
- D. Kas (+) Rp 525.000,00, Piutang (-) Rp 500.000,00, Modal (+) Rp 25.000,00
- E. Kas (-) Rp 525.000,00, Utang (+) Rp 500.000,00, Modal (+) Rp 25.000,00

Jawaban : D

Penyelesaian :

Transaksi yang terjadi pada tanggal 30 Juni 2007 diterima piutang dari Fatah Rp 500.000,00 dengan bunga sebesar Rp 25.000,00 akan mempengaruhi persamaan dasar akuntansi sebagai berikut :

Kas bertambah (+) Rp 525.000,00

Piutang berkurang (-) Rp 500.000,00

Modal bertambah (+) Rp 25.000,00

26. Data yang tercantum pada kertas kerja PD. Andalas per 31 Desember 2006 :

Penjualan Rp 120.620.000,00

Pendapatan bunga Rp 1.500.000,00

Retur pembelian Rp 2.600.000,00

Berdasarkan data di atas, pencatatan ayat jurnal penutup dengan pendekatan ikhtisar laba/rugi adalah

A.

Tanggal	Keterangan	Ref	Debit	Kredit
2006				
Des	31		Rp 120.620.000,00	-
			Rp 1.500.000,00	-
			Rp 2.600.000,00	-
			-	Rp 124.720.000,00

Tanggal		Keterangan	Ref	Debit	Kredit
2006					
Des	31	Ikhtisar laba/rugi		Rp 124.720.000,00	-
		Penjualan		-	Rp 120.620.000,00
		Pendapatan bunga		-	Rp 1.500.000,00
		Retur pembelian		-	Rp 2.600.000,00

Tanggal		Keterangan	Ref	Debit	Kredit
2006					
Des	31	Penjualan		Rp 120.620.000,00	-
		Pendapatan bunga		Rp 1.500.000,00	-
		Ikhtisar laba/rugi		-	Rp 122.120.000,00

Tanggal		Keterangan	Ref	Debit	Kredit
2006					
Des	31	Penjualan		Rp 120.620.000,00	-
		Retur pembelian		Rp 2.600.000,00	-
		Ikhtisar laba/rugi		-	Rp 123.220.000,00

Tanggal		Keterangan	Ref	Debit	Kredit
2006					
Des	31	Penjualan		Rp 120.620.000,00	-
		Retur pembelian		Rp 2.600.000,00	-
		Ikhtisar laba/rugi		-	Rp 124.720.000,00
		Pendapatan bunga		-	Rp 1.500.000,00

Jawaban : A

Penyelesaian :

Dari data tersebut akan dicatat melalui ayat jurnal penutup dengan ikhtisar laba/rugi sebagai berikut :

Penjualan (D)	Rp 120.620.000,00	
Pendapatan bunga (D)	Rp 1.500.000,00	
Retur pembelian (D)	Rp 2.600.000,00	
Ikhtisar Laba Rugi (K)		Rp 124.720.000,00

27. Berikut ini disajikan data suatu perusahaan dagang yang terdapat pada Kertas Kerja :

Persediaan awal	Rp 50.385.000,00
Persediaan akhir	Rp 27.367.000,00
Penjualan bersih	Rp 62.800.000,00
Beban usaha	Rp 400.000,00
Beban di luar usaha	Rp 250.000,00
Pendapatan di luar usaha	Rp 1.700.000,00
Harga pokok penjualan	Rp 42.600.000,00

Berdasarkan data di atas, berapakah besarnya laba bersih perusahaan

- | | |
|---------------------|---------------------|
| A. Rp 17.500.000,00 | D. Rp 20.850.000,00 |
| B. Rp 18.650.000,00 | E. Rp 21.250.000,00 |
| C. Rp 20.000.000,00 | |

Jawaban : E

Penyelesaian :

Laba bersih = laba kotor - (beban usaha + beban di luar usaha) + pendapatan di luar usaha

$$\begin{aligned} \text{Laba kotor} &= \text{penjualan bersih} - \text{harga pokok penjualan (HPP)} \\ &= 62.800.000 - 42.600.000 \\ &= \text{Rp } 20.200.000,00 \end{aligned}$$

$$\text{Laba bersih} = 20.200.000 - (400.000 + 250.000) + 1.700.000$$

$$\begin{aligned}
 &= 20.200.000 - 650.000 + 1.700.000 \\
 &= 20.200.000 + 1.250.000 \\
 &= \text{Rp } 21.250.000,00
 \end{aligned}$$

28. Perhatikan data-data berikut !

Penjualan	Rp 110.700.000,00
Retur penjualan	Rp 6.400.000,00
Potongan penjualan	Rp 2.200.000,00
Persediaan 1/1	Rp 90.000.000,00
Pembelian	Rp 20.000.000,00
Biaya angkut pembelian	Rp 2.400.000,00
Retur pembelian	Rp 3.000.000,00
Potongan pembelian	Rp 400.000,00
Persediaan 31 Des	Rp 64.000.000,00

Berdasarkan data di atas, maka besarnya harga pokok penjualan adalah

- | | |
|---------------------|----------------------|
| A. Rp 45.000.000,00 | D. Rp 109.000.000,00 |
| B. Rp 64.000.000,00 | E. Rp 112.400.000,00 |
| C. Rp 89.000.000,00 | |

Jawaban : A

Penyelesaian :

$$\begin{aligned}
 \text{Harga pokok penjualan (HPP)} &= \text{Persediaan awal} + \text{Pembelian bersih} - \text{Persediaan akhir} \\
 \text{Pembelian bersih} &= \text{pembelian} - (\text{retur pembelian} + \text{potongan pembelian}) + \text{beban angkut} \\
 &\quad \text{pembelian} \\
 &= 20.000.000 - (3.000.000 + 400.000) + 2.400.000 \\
 &= 20.000.000 - 3.400.000 + 2.400.000 \\
 &= \text{Rp } 19.000.000,00 \\
 \text{HPP} &= 90.000.000 + 19.000.000 - 64.000.000 \\
 &= 109.000.000 - 64.000.000 \\
 &= \text{Rp } 45.000.000,00
 \end{aligned}$$

29. Pada tanggal 31 Des 2007, PT Jaya mempunyai data akun berikut ini.

Penjualan	Rp 6.000.000,00
Retur Penjualan	Rp 80.000,00
Pembelian	Rp 1.900.000,00
Biaya angkut pembelian	Rp 140.000,00
Retur Pembelian	Rp 120.000,00
Potongan Pembelian	Rp 100.000,00
Persediaan barang (awal)	Rp 1.200.000,00
Persediaan barang (akhir)	Rp 1.100.000,00

Pada akhir periode data di atas di jurnal penyesuaian berikut ini.

1. Penjualan	Rp 6.000.000,00	-
Harga pokok penjualan	-	Rp 6.000.000,00
2. Harga pokok penjualan	Rp 1.900.000,00	-
Pembelian	-	Rp 1.900.000,00
3. Biaya angkut pembelian	Rp 140.000,00	-
Harga pokok penjualan	-	Rp 140.000,00
4. Retur pembelian	Rp 120.000,00	-
Harga pokok penjualan	-	Rp 120.000,00
5. Harga pokok penjualan	Rp 100.000,00	-
Potongan pembelian	-	Rp 100.000,00

6. Harga pokok penjualan	Rp 1.200.000,00	-
Persediaan barang dagang	-	Rp 1.200.000,00
7. Persediaan barang dagang	Rp 1.100.000,00	-
Harga pokok penjualan	-	Rp 1.100.000,00

Jurnal Penyesuaian yang benar adalah

- A. 1, 2, dan 3
 B. 2, 3, dan 4
 C. 2, 4, dan 5
 D. 4, 5, dan 6
 E. 4, 6, dan 7

Jawaban : E

Penyelesaian :

Dari akun PT Jaya jika di jurnal dalam Jurnal Penyesuaian yang tepat adalah :

(Pendekatan Harga Pokok Penjualan/HPP)

Harga Pokok Penjualan (HPP)	Rp 1.200.000,00	
Persediaan Barang Dagang (Awal)		Rp 1.200.000,00
Persediaan Barang Dagang (Akhir)	Rp 1.100.000,00	
Harga Pokok Penjualan (HPP)		Rp 1.100.000,00
Harga Pokok Penjualan (HPP)	Rp 1.900.000,00	
Pembelian		Rp 1.900.000,00
Potongan pembelian	Rp 100.000,00	
Harga Pokok Penjualan (HPP)		Rp 100.000,00
Harga Pokok Penjualan (HPP)	Rp 140.000,00	
Beban Angkut Pembelian		Rp 140.000,00
Retur Pembelian	Rp 100.000,00	
Harga Pokok Penjualan (HPP)		Rp 100.000,00

30. Berikut ini disajikan sebagian transaksi PD. Abdi dalam bulan Mei 2007 :

Tgl 5 Membeli peralatan secara kredit pada CV. Aman sebesar Rp 4.500.000,00 dengan syarat 2/10, n/30

Tgl 6 Menjual barang dagangan secara tunai pada Toko ABC seharga Rp 400.000,00

Tgl 10 Membeli barang dagang secara tunai pada CV. Aman Rp 2.000.000,00

Tgl 15 Membeli barang dagang pada CV. Norman seharga Rp 6.500.000,00 dengan syarat 2/10, n/30

Tgl 18 Membayar sebagian utang pada CV. Aman sebesar Rp 1.500.000,00

Tgl 20 Menjual barang dagang pada Toko ABC seharga Rp 2.500.000,00 dengan syarat

2/10, n/30

Dari transaksi di atas, yang harus dibukukan ke Buku Besar Pembantu Utang adalah

- A. transaksi tanggal 5, 6, dan 10
 B. transaksi tanggal 6, 10, dan 18
 C. transaksi tanggal 5, 15, dan 18
 D. transaksi tanggal 5, 15, dan 20
 E. transaksi tanggal 15, 18, dan 20

Jawaban : C

Penyelesaian :

Buku besar pembantu utang merupakan buku yang digunakan dalam pencatatan perubahan utang dagang, dengan menyediakan perincian nama kreditur.

Untuk menentukan transaksi mana yang dicatat di Buku Besar Pembantu Utang dapat dicari dengan melihat tanggal berapa transaksi yang mempengaruhi perusahaan kepada pihak lain.

Dari data soal transaksi yang mempengaruhi hutang terjadi pada tanggal 5/5/07, 15/5/07 dan 18/5/07.

31.

Jurnal Pembelian

Tgl	Rekening Dikredit	Tgl Faktur	Termin	Debit			Kredit
				pembelian	Perl. kantor	Pral. kantor	Utang dagang
3/2	PT Rajawali			15.000,00			15.000,00
7/2	CV Indah				9.000,00		9.000,00
13/2	Fa. Mitra			7.000,00			7.000,00
19/2	PT Aman			21.000,00		4.000,00	25.000,00
26/2	PT Rajawali			13.000,00	5.000,00		18.000,00
Jumlah				56.000,00	14.000,00	4.000,00	74.000,00

Jika pada awal bulan Februari saldo Buku Besar Pembelian menunjukkan angka debit sebesar Rp 12.000,00, maka pada akhir Februari setelah posting dilakukan dari jurnal pembelian saldo Buku Besar Pembelian akan menunjukkan saldo sebesar

- A. kredit Rp 44.000,00
- B. debit Rp 56.000,00
- C. debit Rp 68.000,00
- D. debit Rp 84.000,00
- E. debit Rp 86.000,00

Jawaban : C

Penyelesaian :

Pencatatan yang benar dalam buku besar pembelian adalah :

Akun Pembelian

Tanggal	Keterangan	Ref	Debet	Kredit	Saldo	
					Debet	Kredit
Feb-1	Saldo				Rp 12.000,00	
Feb-3	PT. Rajawali		Rp 15.000,00		Rp 27.000,00	
Feb-13	Fa. Mitra		Rp 7.000,00		Rp 34.000,00	
Feb-19	PT. Aman		Rp 21.000,00		Rp 55.000,00	
Feb-26	PT. Rajawali		Rp 13.000,00		Rp 68.000,00	

32. Berikut ini disajikan sebagian transaksi PD. Andika :

Tgl 2 Mei 2007 dibeli barang dagang secara tunai dari PD. Mayasari seharga Rp 100.000,00

Tgl 3 Mei 2007 dijual barang dagang pada Toko ABC sebesar Rp 50.000,00 dengan syarat 2/10, n/30, faktur no. 22

Tgl 4 Mei 2007 dibeli barang dagang dari PD. Andalas seharga Rp 300.000,00 dengan syarat 3/10, n/30, faktur no. 45

Tgl 5 Mei 2007 dijual barang dagang secara tunai pada Toko Galak seharga Rp 20.000,00

Tgl 6 Mei 2007 dibeli barang dagang dari PD. Lokasari seharga Rp 350.000,00 dengan syarat 2/10, n/30, faktur no. 46

Dari transaksi di atas, pencatatan pada jurnal pembelian yang benar adalah

A.

Tanggal	No. Faktur	Akun yang dikredit	Syarat pembayaran	Ref	Pembelian (D) Utang Dagang (K)
2007					
Mei	2	PD. Mayasari	-		100.000,00
	4	PD. Andalas	3/10, n/10		300.000,00
	6	PD. Lokasari	2/10, n/30		350.000,00

B.

Tanggal	No. Faktur	Akun yang dikredit	Syarat pembayaran	Ref	Pembelian (D) Utang Dagang (K)
2007					
Mei	3	45	PD. Andalas	3/10, n/10	300.000,00
	5	46	PD. Lokasari	2/10, n/30	350.000,00

C.

Tanggal	No. Faktur	Akun yang dikredit	Syarat pembayaran	Ref	Pembelian (D) Utang Dagang (K)
2007					
Mei	4	45	PD. Andalas	3/10, n/10	300.000,00
	6	46	PD. Lokasari	2/10, n/30	350.000,00

D.

Tanggal	No. Faktur	Akun yang dikredit	Syarat pembayaran	Ref	Pembelian (D) Utang Dagang (K)
2007					
Mei	3	20	Toko ABC	2/10, n/30	50.000,00
	4	45	PD. Andalas	3/10, n/10	300.000,00
	6	46	PD. Lokasari	2/10, n/30	350.000,00

E.

Tanggal	No. Faktur	Akun yang dikredit	Syarat pembayaran	Ref	Pembelian (D) Utang Dagang (K)
2007					
Mei	4	45	PD. Lokasari	3/10, n/10	300.000,00
	6	46	PD. Andalas	2/10, n/30	350.000,00

Jawaban : C

Penyelesaian :

Pencatatan Jurnal Pembelian yang benar yaitu :

Tanggal	No. Faktur	Akun yang dikredit	Syarat pembayaran	Ref	Pembelian (D) Utang Dagang (K)
2007					
Mei	4	45	PD. Andalas	3/10, n/10	300.000,00
	6	46	PD. Lokasari	2/10, n/30	350.000,00

33. Berikut ini data sepeda dengan harga Rp 500.000,00 permintaan sebanyak 54.000 unit, sedangkan harga Rp 1.000.000,00 jumlah permintaan 53.000 unit. Berdasarkan data berapa koefisien elastisitas permintaan sepeda adalah

- A. $E > 1$
- B. $E < 1$
- C. $E = 1$
- D. $E = \sim$
- E. $E = 0$

Jawaban : B

Penyelesaian :

$$E_d = \frac{\Delta Q}{\Delta P} \times \frac{P}{Q}$$

$$E_d = \frac{54000 - 53000}{1000000 - 500000} \times \frac{500000}{54000} = \frac{1000}{500000} \times \frac{500000}{54000} = \frac{1}{54}$$

Jadi $E < 1$

34. Selama ini pemerintah menanggung subsidi BBM yang tinggi dan secara bertahap akan menghilangkan subsidi BBM dengan jalan menaikkan harga BBM. Tindakan ini dilakukan dengan tujuan mengurangi

- A. pengeluaran pemerintah
- B. pendapatan masyarakat
- C. ketergantungan BBM
- D. konsumsi BBM
- E. APBN

Jawaban : A

Penyelesaian :

Kenaikan BBM secara bertahap berarti akan mengurangi biaya pengeluaran pemerintah.

35. Diketahui APBN tahun 2005 dalam miliar

Penerimaan rutin Rp 40.184,00

Penerimaan pembangunan Rp 10.371,50

Pengeluaran rutin Rp 30.557,80

Pengeluaran pembangunan Rp 19.997,70

Berdasarkan data di atas tahun 2005 posisi APBN adalah

- A. stabil
 B. defisit
 C. surplus
 D. eksplisit
 E. berimbang

Jawaban : E

Penyelesaian :

Penerimaan rutin	Rp 40.184,00
Penerimaan pembangunan	Rp 10.371,50 +
<u>Jumlah Penerimaan</u>	<u>Rp 50.555,50</u>

Pengeluaran rutin	Rp 30.557,80
Pengeluaran pembangunan	Rp 19.997,70 +
<u>Jumlah Pengeluaran</u>	<u>Rp 50.555,50</u>

Posisi APBN berimbang karena jumlah penerimaan dan jumlah pengeluaran sama.

36. PT. Telekomunikasi Indonesia Tbk berencana *buy check* saham perusahaan yang dimiliki investor publik dan saham itu merupakan salah satu instrumen

- A. pasar tenaga kerja
 B. pasar valuta asing
 C. pasar berjangka
 D. pasar modal
 E. pasar uang

Jawaban : D

Penyelesaian :

Saham merupakan salah satu instrumen pasar modal.

37. Yang termasuk fungsi manajemen keuangan dan personalia:

1. perencanaan keuangan
2. penentuan insentif karyawan
3. menyusun laporan keuangan
4. struktur penggajian
5. menganalisis laporan keuangan

Tugas utama manajer keuangan adalah

- A. 1, 2, dan 3
 B. 1, 3, dan 5
 C. 2, 3, dan 5
 D. 2, 4, dan 5
 E. 3, 4, dan 5

Jawaban : B

Penyelesaian :

Tugas manager keuangan :

1. Perencanaan keuangan
2. Menyusun laporan keuangan
3. Menganalisis laporan keuangan

38. Salah satu bukti dari salon "AS" sebagai berikut:

Nomor : 271	
Telah diterima dari	: Salon "AS"
Uang Sejumlah	: Dua juta rupiah
Untuk pembayaran	: Pembelian meja rias
Terbilang : Rp 2.000.000,00	
Makassar, 1 Mei 2003	
Yang menerima	
Amir Jaya	

Dari bukti transaksi di atas, dicatat oleh Salon AS dalam jurnal umum

- A. Perlengkapan salon Rp 2.000.000,00
 Kas Rp 2.000.000,00
- B. Perlengkapan salon Rp 2.000.000,00
 Piutang usaha Rp 2.000.000,00
- C. Peralatan salon Rp 2.000.000,00
 Kas Rp 2.000.000,00
- D. Peralatan salon Rp 2.000.000,00
 Piutang usaha Rp 2.000.000,00
- E. Pembelian Rp 2.000.000,00
 Kas Rp 2.000.000,00

Jawaban : C

Penyelesaian :

Perlengkapan kantor bertambah di debet Rp 2.000.000,00

Kas berkurang di kredit Rp.2.000.000,00

39. Kertas kerja sebagian dari salon "Cantik" :

Dalam ribuan rupiah

Nama Akun	NS		AJP		NSD		R/L		N	
	D	K	D	K	D	K	D	K	D	K
Persekot sewa	1.200	-	-	400						
Beban sewa	-	-	400	-						

Penyelesaian kertas kerja yang benar adalah

- A. Persekot sewa D R/R Rp 800,00
 Beban sewa D R/L Rp 400,00
- B. Persekot sewa D Neraca Rp 800,00
 Beban sewa D Neraca Rp 400,00
- C. Persekot sewa D R/L Rp 800,00
 Beban sewa D Neraca Rp 400,00
- D. Persekot sewa D Neraca Rp 800,00
 Beban sewa D R/L Rp 400,00
- E. Persekot sewa D Neraca Rp 800,00
 Beban sewa D R/L Rp 400,00

Jawaban : D

Penyelesaian :

40. Data yang dimiliki perusahaan jasa Aman pada tanggal 31-12-2005 sebagai berikut :

Pendapatan jasa Rp 5.000.000,00

Beban usaha Rp 2.500.000,00

Beban bunga Rp 300.000,00

Modal (awal) Rp 3.000.000,00

Laba/Rugi Perusahaan Jasa Aman tahun buku 2005 adalah

A. Rugi 2.000.000,00

D. Rugi 2.200.000,00

B. Laba 2.000.000,00

E. Laba 2.500.000,00

C. Laba 2.200.000,00

Jawaban : C

Penyelesaian :

Laba = pendapatan - beban

$$= 5.000.000 - 2.500.000 - 300.000$$

$$= 2.200.000$$

41. Perhatikan kegiatan ekonomi berikut ini.

1. Ayah telah bekerja keras dengan harapan kesejahteraan keluarga dapat meningkat.

2. Aditya lebih suka membeli buku di koperasi sekolah daripada di toko, karena di koperasi harganya lebih murah.

3. Meskipun ekonomi Pak Hasan sudah mapan, namun ia terus meningkatkan usahanya dengan harapan dapat menolong orang lain.

4. Ibu lebih suka membeli beras di pasar tradisional daripada di Super Market, karena harganya lebih murah.

5. Pak Agung berusaha menguasai berbagai kegiatan ekonomi dengan harapan ia akan mendapatkan kekuasaan.

Berdasarkan kegiatan ekonomi di atas, yang menerapkan prinsip ekonomi adalah nomor.....

A. 1 dan 2

D. 3 dan 4

B. 2 dan 3

E. 4 dan 5

C. 2 dan 4

Jawaban : C

Penyelesaian :

Kegiatan atau tindakan yang berdasarkan prinsip ekonomi adalah tindakan yang rasional dan berpijak pada prinsip penghematan atau efisiensi. Pengorbanan tertentu atau sekecil-kecilnya untuk mendapatkan hasil yang semaksimal mungkin. Jadi pilihan yang tepat :

1. Aditya lebih suka membeli buku di koperasi sekolah daripada di toko, karena di koperasi harganya lebih murah.

2. Ibu lebih suka membeli beras di pasar tradisional daripada di Super Market, karena harganya lebih murah.

42. Berikut ini yang *tidak termasuk* manfaat pasar modal bagi investor adalah

A. nilai investasi berkembang

B. dapat sekaligus melakukan investasi

C. mempunyai hak suara dalam rapat umum pemegang saham

D. memperoleh deviden atas saham yang mereka miliki

E. mendorong laju pembangunan

Jawaban : E

Penyelesaian :

Manfaat pasar modal antara lain :

- Tempat untuk mencari tambahan modal bagi perusahaan
- Tempat untuk mencari tambahan laba bagi perusahaan
- Dapat meningkatkan jumlah produksi
- Dapat memperoleh deviden bagi investor
- Dapat meningkatkan pendapatan pajak bagi pemerintah
- Dapat meningkatkan pertumbuhan ekonomi.

Manfaat pasar modal bagi investor adalah :

- Nilai investasi dapat berkembang
- Tempat untuk melakukan investasi
- Mempunyai hak suara dalam RUPS
- Memperoleh dividen atas saham yang dimiliki.

Yang bukan manfaat bagi investor adalah mendorong laju pembangunan.

43. Bapak Sudibyo memiliki putra yang sedang duduk di kelas XII. Karena putranya sedang menempuh ujian akhir dan akan melanjutkan ke Perguruan Tinggi, maka ia harus mempersiapkan sejumlah uang tertentu untuk membayar bila lulus dan diterima di salah satu Perguruan Tinggi yang dituju. Berarti bapak Sudibyo memiliki motif
- A. transaksi
B. berjaga-jaga
C. spekulasi
D. menabung
E. investasi

Jawaban : B

Penyelesaian :

Motif-motif kepemilikan uang:

- Motif transaksi adalah motif memiliki uang untuk digunakan membayar keperluan sehari-hari.
- Motif berjaga-jaga adalah motif memiliki uang untuk digunakan membayar transaksi yang kemungkinan secara mendadak atau tidak diduga terjadi.
- Motif spekulasi adalah motif memiliki uang untuk digunakan membeli barang, yang diharapkan dapat menghasilkan keuntungan.

44. "Koperasi merupakan soko guru perekonomian Indonesia dan sekaligus sebagai gerakan ekonomi rakyat yang berdasar atas azas kekeluargaan."

Prinsip di bawah ini yang *tidak* berhubungan dengan pernyataan di atas adalah

- A. keanggotaan bersifat suka rela dan terbuka
B. pengelolaan dilakukan secara demokratis
C. pembagian SHU sebanding dengan besarnya jasa anggota
D. pemberian balas jasa yang terbatas terhadap modal
E. modal koperasi hanya bersumber dari simpanan anggota

Jawaban : E

Penyelesaian :

Prinsip-prinsip koperasi :

1. Keanggotaan bersifat sukarela dan terbuka.
2. Pengelolaan dilakukan secara demokratis.
3. Pembagian SHU sesuai dengan jasa anggota.
4. Memegang prinsip kemandirian.
5. Pemberian balas jasa yang terbatas terhadap modal.
6. Modal koperasi bersumber dari anggota, cadangan dan hibah.

45. Dalam tahun 2005 pemerintah Indonesia telah mengekspor barang senilai Rp 799.992.000,00 dan telah mengimpor barang senilai US\$ 70.000. Kurs pada tahun 2005 ditetapkan kurs jual US\$ = Rp 8.200,00 dan kurs beli US\$ =Rp 8.000,00. Berdasarkan data di atas, devisa negara Indonesia tahun 2005 terjadi
- A. berkurang US\$ 25.560
 B. berkurang US\$ 29.999
 C. bertambah US\$ 27.560
 D. bertambah US\$ 29.999
 E. bertambah US\$ 97.560

Jawaban : C

Penyelesaian :

$$\begin{array}{rcl} \text{Ekspor} & & = 799.992.000 \\ \text{Impor} = \text{US\$ } 70.000 \times 8.200 & = & \underline{574.000.000} - \\ \text{Pertambahan devisa} & & = 225.992.000 \end{array}$$

Pertambahan devisa dalam US\$ = $225.992.000 : 8.200 = \text{US\$ } 27.560$

46. Satu ciri BUMN berbentuk persero adalah
- A. perangkat organisasinya adalah Menteri, Direksi, dan Dewan Pengawas
 B. perangkat organisasinya adalah RUPS, Direksi, Komisaris
 C. memperoleh fasilitas dari negara
 D. pegawainya adalah Pegawai Negeri
 E. laporan tahunan disampaikan kepada Menteri

Jawaban : B

Penyelesaian :

Ciri-ciri BUMN:

1. Permodalan mayoritas dari negara.
2. Mendapat fasilitas dari negara.
3. Pegawainya adalah pegawai negeri.
4. Sebagai pelaku ekonomi yang menjadi stabilisator dan dinamisator perekonomian negara.

Ciri-ciri BUMN berbentuk persero:

1. Modalnya berbentuk persero/saham/andil.
2. Mencari keuntungan berorientasi.
3. Perangkat organisasinya adalah RUPS, Direksi, Komisaris.

47. Diketahui harga eceran barang di pasar tahun 2004 dan tahun 2005 sebagai berikut.

Barang	Harga		Jumlah	
	P _o (2004)	P _n (2005)	Q _o (2004)	Q _n (2005)
Gula	7.200	8.000	2.000	3.000
Minyak	6.500	7.000	1.000	2.000
Beras	3.500	3.800	5.000	6.000

Bila tahun 2004 sebagai tahun dasar, maka indeks harga dengan metode Laspeyres adalah.....

- A. 61,32
 B. 69,01
 C. 91,43
 D. 109,38
 E. 158,33

Jawaban : D

Penyelesaian :

Rumus Laspeyres :

$$L = \frac{\sum P_n \cdot Q_o}{\sum P_o \cdot Q_o} \times 100\%$$

Barang	P _o	P _n	Q _o	P _n . Q _o	P _o . Q _o
Gula	7.200	8.000	2.000	16.000.000	14.400.000
Minyak	6.500	7.000	1.000	7.000.000	6.500.000
Beras	3.500	3.800	5.000	19.000.000	17.500.000
Jumlah				42.000.000	38.400.000

$$L = \frac{\sum P_n \cdot Q_o}{\sum P_o \cdot Q_o} \times 100\%$$

$$L = \frac{42.000.000}{38.400.000} \times 100\% = 109,38\%$$

48. Tabel harga barang dan jumlah barang yang diminta selama sebulan sebagai berikut!

Harga Barang (X)	Jumlah Barang Yang Diminta (X)
5	20
6	18
6	14
8	10
9	5

Persamaan regresinya dengan metode kuadrat terkecil adalah

A. $Y = 37,68 - 3,57X$

D. $Y = -37,68 - 3,57X$

B. $Y = 37,68 + 3,57X$

E. $Y = 3,57 - 37,68X$

C. $Y = -37,68 + 3,57X$

Jawaban : A

Penyelesaian :

Rumus regresi : $y = a + bx$

$$a = \frac{\sum y - b \sum x}{n}$$

$$b = \frac{n \sum xy - \sum x \sum y}{n \sum x^2 - (\sum x)^2}$$

x	y	xy	x ²
5	20	100	25
6	18	108	36
6	14	85	36
8	10	80	64
9	5	45	81
34	67	417	242

$$b = \frac{n \sum xy - \sum x \sum y}{n \sum x^2 - (\sum x)^2} = \frac{5(417) - (34)(67)}{5(242) - (34)^2} = \frac{2085 - 2278}{1210 - 1156} = \frac{-193}{54} = -3,571$$

$$a = \frac{\sum y - b \sum x}{n} = \frac{67 - (-3,57)(34)}{5} = \frac{67 + 121,38}{5} = \frac{188,38}{5} = 37,68$$

Jadi persamaan regresinya = $y = 37,68 - 3,57x$

49. Dibeli mesin dengan harga perolehan Rp 20.000.000,00 bila nilai ekonomis 4 tahun dan perkiraan nilai sisa Rp 4.000.000,00 dengan kapasitas produksi 50.000 unit. Tahun 2005 = 15.000 unit. Tahun 2006 = 13.000 unit. Tahun 2007 = 12.000 unit. Tahun 2008 = 10.000 unit. Jika menggunakan metode jumlah satuan unit produksi, maka besarnya beban penyusutan tahun 2007 adalah

- A. Rp 320,00
 B. Rp 3.203.000,00
 C. Rp 3.840.000,00
 D. Rp 4.160.000,00
 E. Rp 4.800.000,00

Jawaban : C

Penyelesaian :

$$\begin{aligned} \text{Penyusutan/satuan} &= \frac{\text{Harga perolehan} - \text{Nilai residu}}{\text{Kapasitas produksi}} \\ &= \frac{20.000.000 - 4.000.000}{50.000} = \frac{16.000.000}{50.000} \\ &= \text{Rp } 320/\text{unit} \end{aligned}$$

$$\begin{aligned} \text{Penyusutan tahun 2007} &= \text{Jumlah produksi 2007} \times \text{Penyusutan/unit} \\ &= 12.000 \times 320 \\ &= \text{Rp } 3.840.000,00 \end{aligned}$$

50. Meningkatnya impor gula pasir dikeluhkan para produsen lokal karena gula pasir lokal mutu dan harganya belum mampu bersaing dengan gula impor. Untuk mengatasinya pemerintah dapat menetapkan jumlah maksimum impor gula pasir. Kebijakan ini dinamakan

- A. tarif
 B. kuota
 C. subsidi
 D. dumping
 E. pendalian devisa

Jawaban : B

Penyelesaian :

Kebijaksanaan perdagangan internasional:

1. Proteksi adalah perlindungan barang-barang produksi dalam negeri
2. Perdagangan bebas
3. Politik dumping

Macam-macam rintangan dalam perdagangan internasional adalah:

- a. Tarif yaitu pembebanan dana/custom duties terhadap barang-barang yang melewati suatu negara.
- b. Kuota yaitu pembatasan jumlah barang yang boleh masuk (kuota impor) dan jumlah barang yang boleh keluar (kuota ekspor).